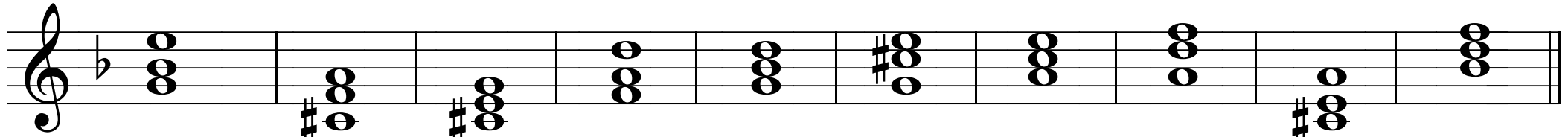


Soinnut 3

Tehtäviä 2

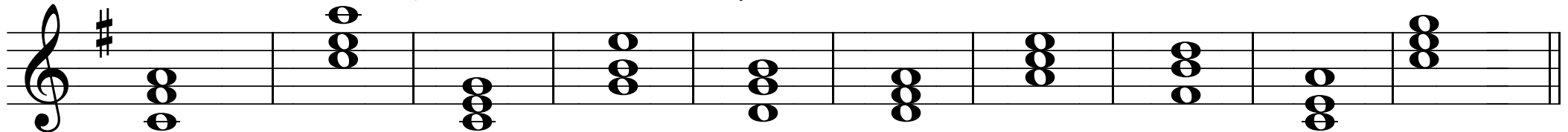
Tunnista d-mollin sointuaste ja käännös, merkitse myös soinnun laatu (D, m, Y, vä)



A musical staff in treble clef with a key signature of one flat (Bb). It contains ten chords: d: II⁶, d: II⁶, d: II⁶, d: II⁶, d: II⁶, d: II⁶, d: II⁶, d: II⁶, d: II⁶, d: II⁶. Below the staff are ten blank lines for labeling.

d: II⁶
vä


Tunnista G-duurin sointuaste ja käännös, merkitse myös soinnun laatu (D, m, Y, vä)



A musical staff in treble clef with a key signature of one sharp (F#). It contains ten chords: G: VII⁶, G: VII⁶, G: VII⁶, G: VII⁶, G: VII⁶, G: VII⁶, G: VII⁶, G: VII⁶, G: VII⁶, G: VII⁶. Below the staff are ten blank lines for labeling.

G: VII⁶
vä

Tunnista e-mollin sointuaste ja käännös, merkitse myös soinnun laatu (D, m, Y, vä)



A musical staff in treble clef with a key signature of one sharp (F#). It contains ten chords: e: VI, e: VI, e: VI, e: VI, e: VI, e: VI, e: VI, e: VI, e: VI, e: VI. Below the staff are ten blank lines for labeling.

e: VI
D